



なかまづくりと かず.....3

- おなじ かずの なかまを さがそう
- いくつと いくつ
- 0と という かず



なんばんめ.....36

- どのように かわるかな... 40
- しあげよう..... 42
- かずを さがそう..... 44

1 2 もくじ

- | | | |
|-------------------|----------------|---------------|
| 3 あわせていくつ ふえるといくつ | 7 10より おおきい かず | 13 ひきざん |
| 4 のこりはいくつ ちがいはいくつ | 8 なんじ なんじはん | 14 おおきい かず |
| 5 どちらが ながい | 9 3つの かずの けいさん | 15 どちらが ひろい |
| 6 わかりやすく せいりしよう | 10 どちらが おおい | 16 なんじなんぶん |
| | 11 たしざん | 17 たしざんと ひきざん |
| | 12 かたちあそび | 18 かたちづくり |

指導者・保護者のみなさまへ

Bマークについて

- 教科書に、このマークがあるところでは、インターネットを活用した学習ができるようになっています。
- 児童がインターネットを使うときは、まず、指導者や保護者などに相談するようご指導ください。

Bマークのコンテンツの使用料は発生しませんが、通信費は自己負担となります。




使い方

下のアドレスかマークのどちらかを使ってアクセスしてください。

<https://tsho.jp/02p/m1a/>




おいしいは どちらかな





なかまづくりと かぎ

たりのかな









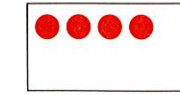

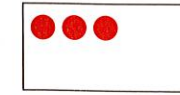







									
---	--	--	--	--	--	--	--	--	--

									
---	--	--	--	--	--	--	--	--	--




									
---	--	--	--	--	--	--	--	--	--

									
---	--	--	--	--	--	--	--	--	--

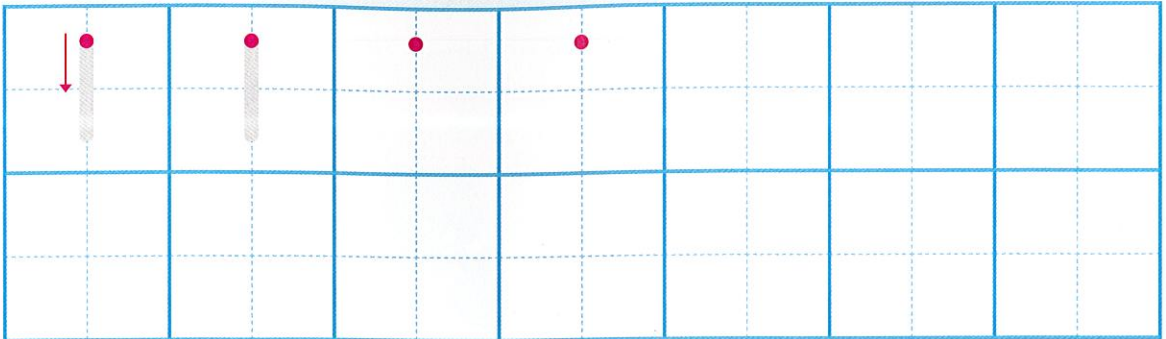
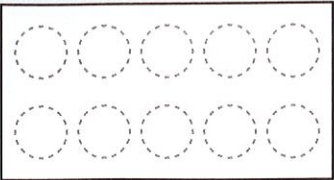


かずをかこう






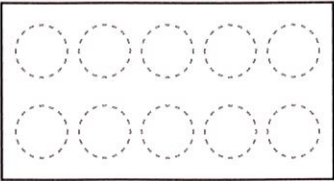
1

いち



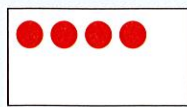

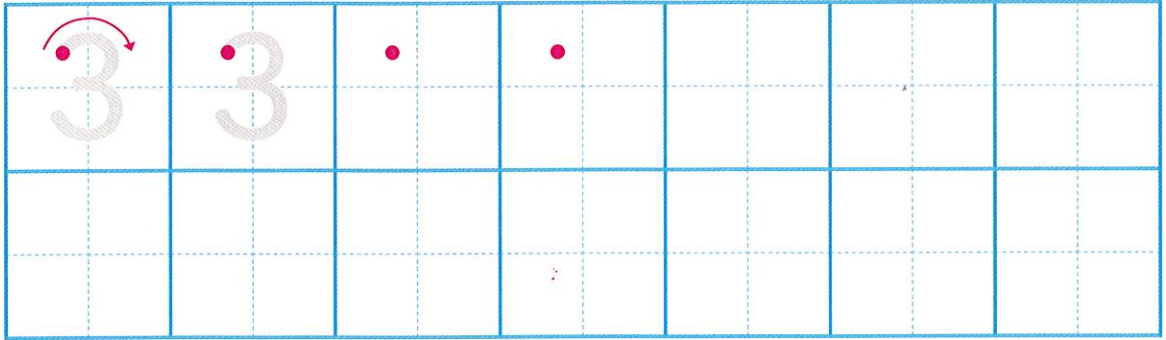
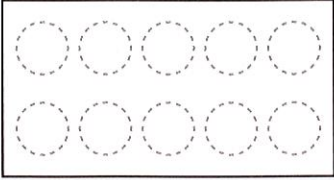
2

に



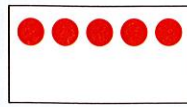

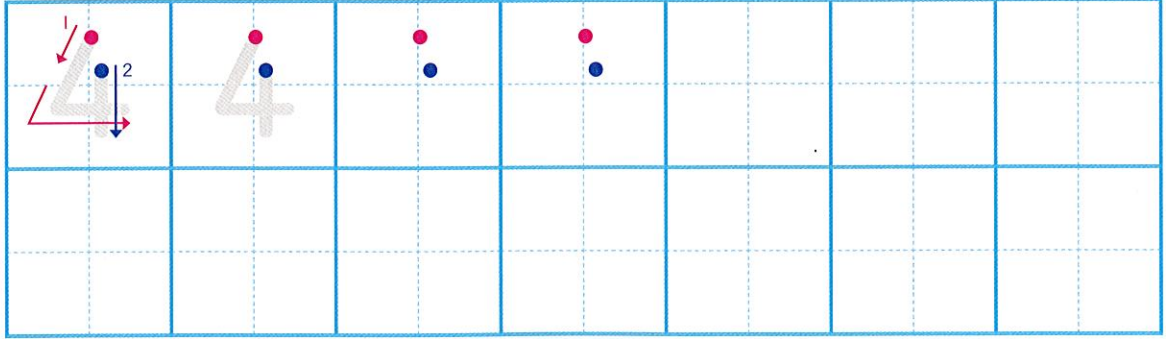

3

さん



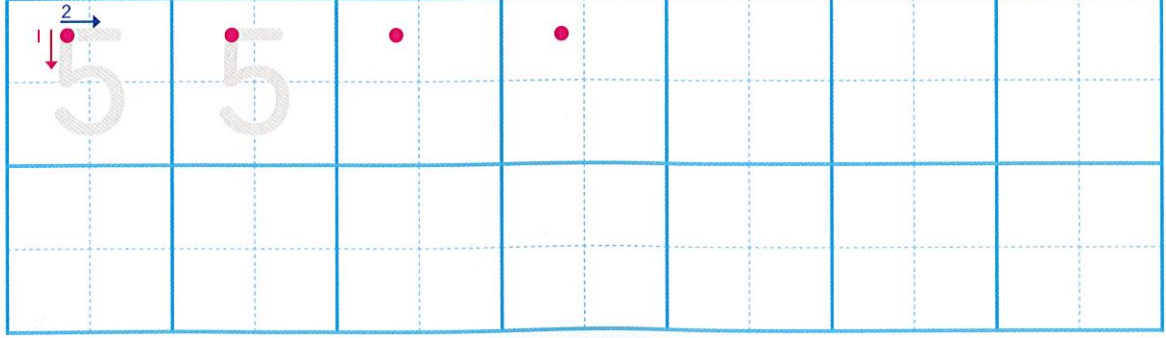
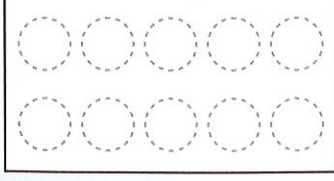
4

し

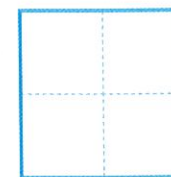

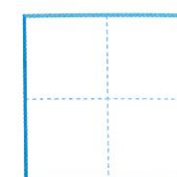


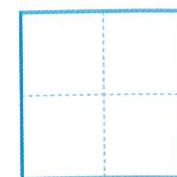

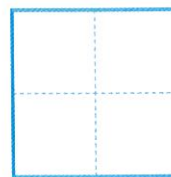
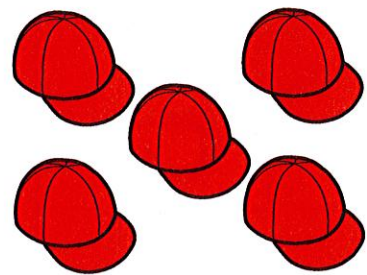

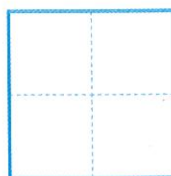

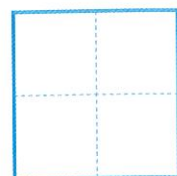


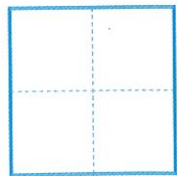



5

ご



かぞえよう




5


ならべよう




あみ




はると




こうた




みさき



5



おはじきを 5こ とります。



🌸は なんこですか。また, 🌼は なんこですか。
ならべかえて みましよう。



5 は

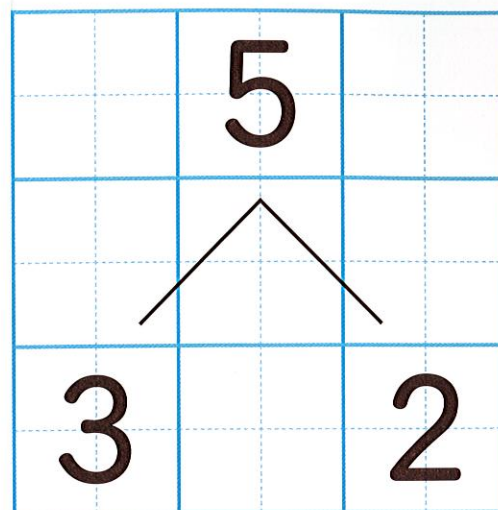
しょうご 🌸が こ, 🌼が こ... 3 と 2

みさ 🌸が こ, 🌼が こ... 4 と

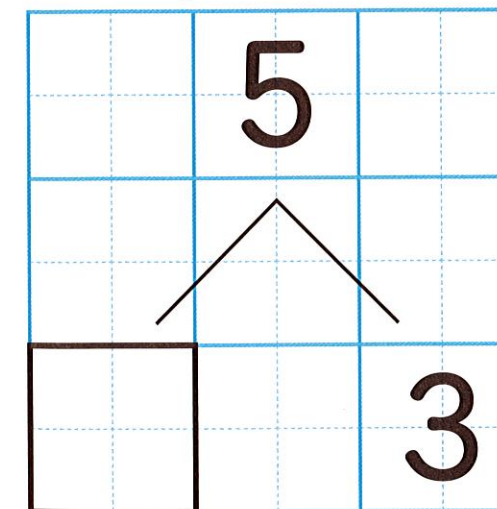

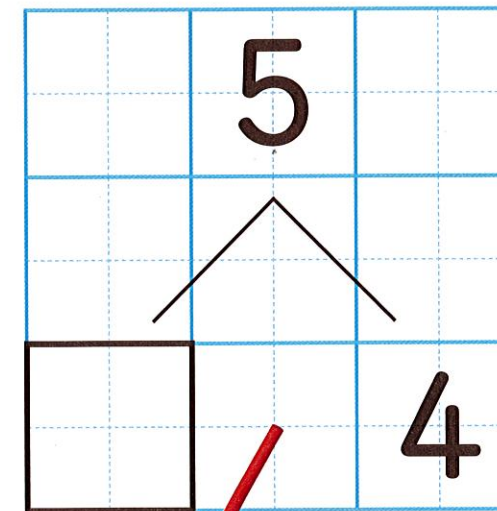
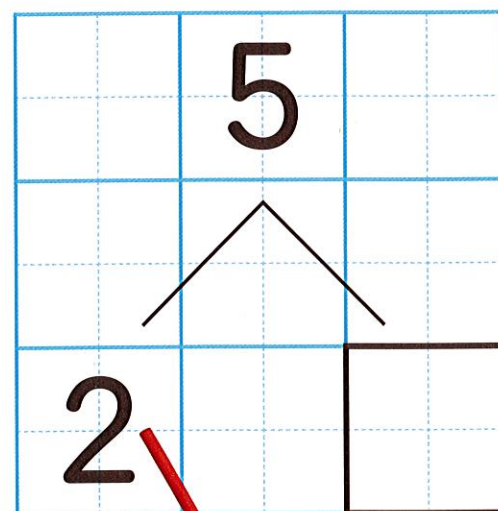

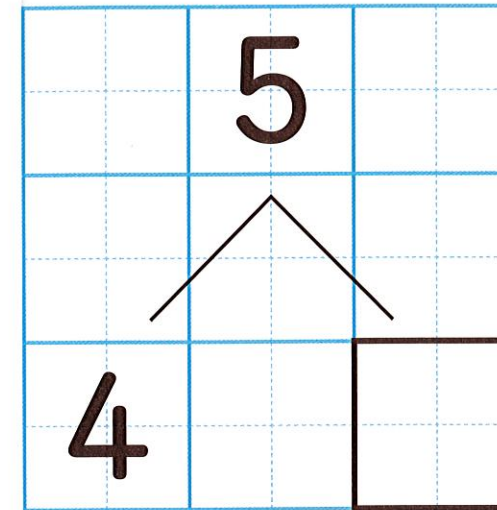
せいら 🌸が こ, 🌼が こ... と

けんと 🌸が こ, 🌼が こ... と

5は 3と 2



5は 4と 1





おなじ かずの なかまを さがそう



Two rows of matching items for counting. The first row contains six panda faces, six blue buckets, and six yellow blocks. Below it is a small grid with five red dots. The second row contains six pig faces, six unicycles, and six yellow blocks. Below it is a small grid with five red dots.

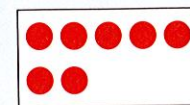

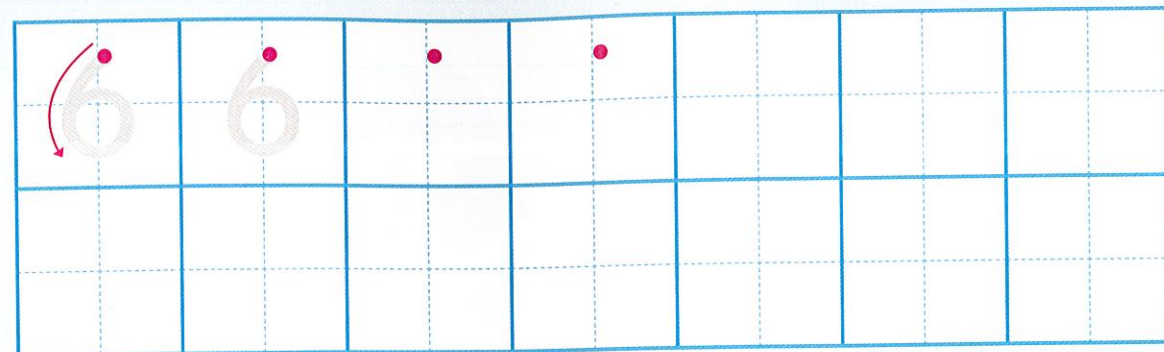



かずをかこう



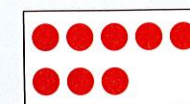
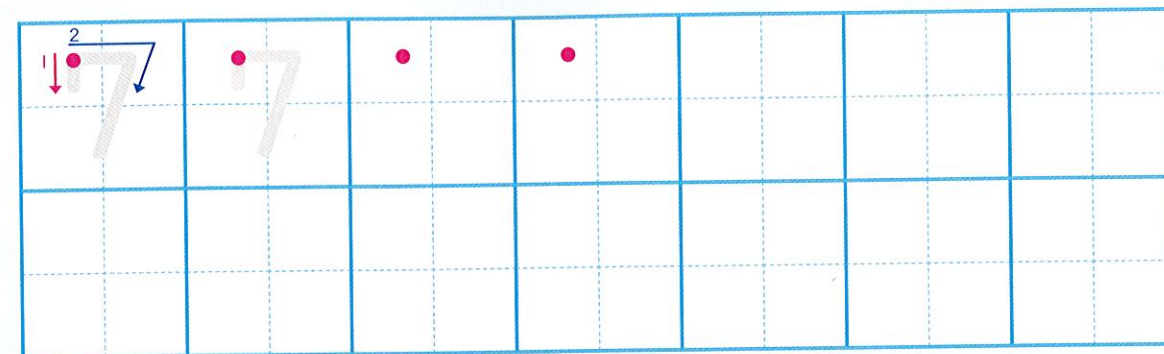
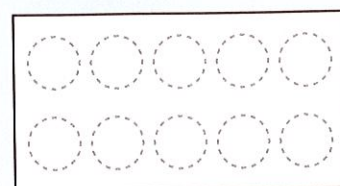
6

ろく




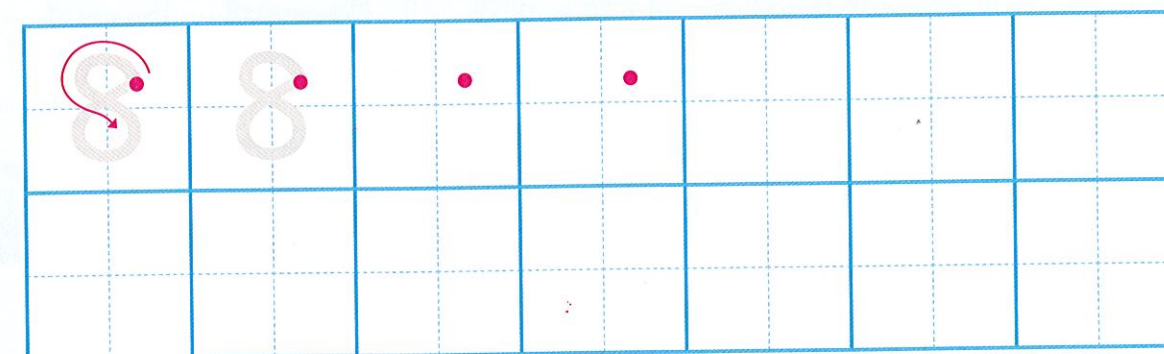
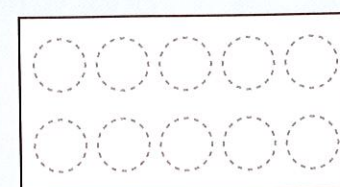
7

しち





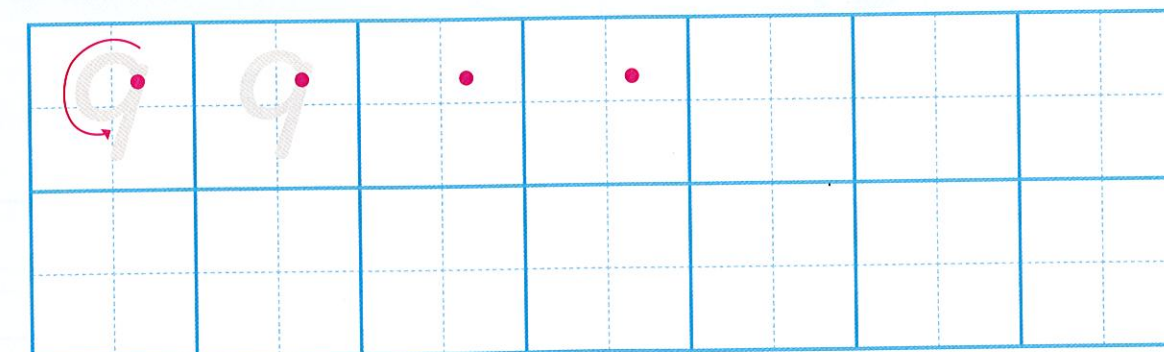
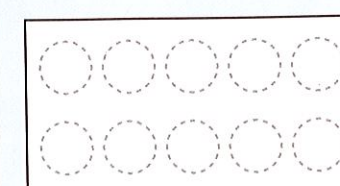
8

はち



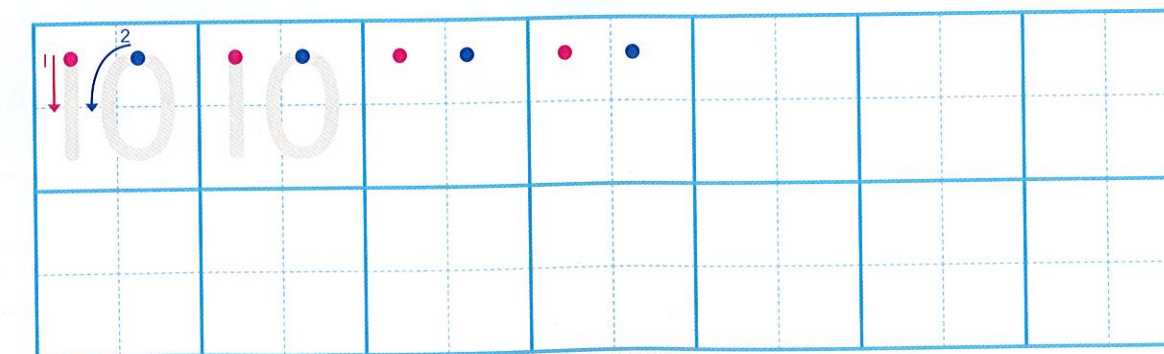
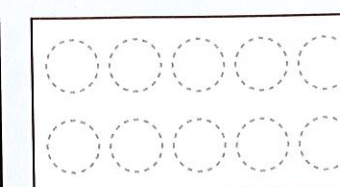
9

く







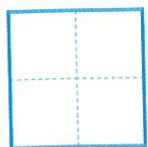


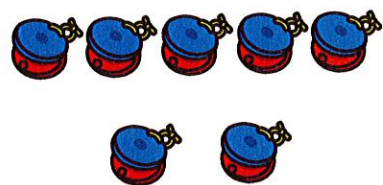
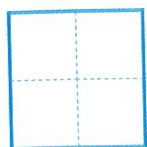



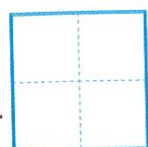

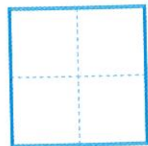

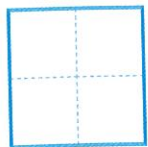


10



じゅう



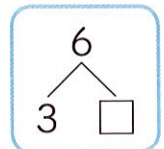

かぞえよう



せんで むすぼう



6



6が6こあります。

かくしているかずをあてましょう。

5 と

と

と

と

と

いくつといくつで6になるかな。

6

5

6

5

6

2

6

4

6

1

6

3

5 1

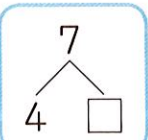

3 3

かぞえよう

3と3で...

7はいくつといくつ

7



が 7こ あります。

かくしている かずを あてましょう。

5 と

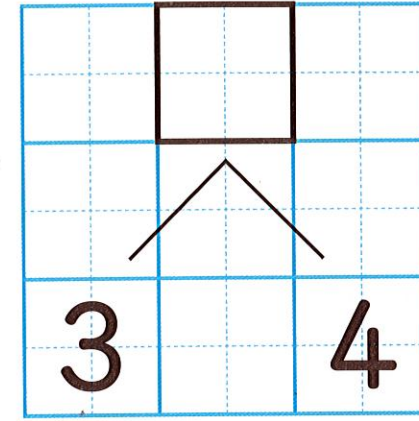

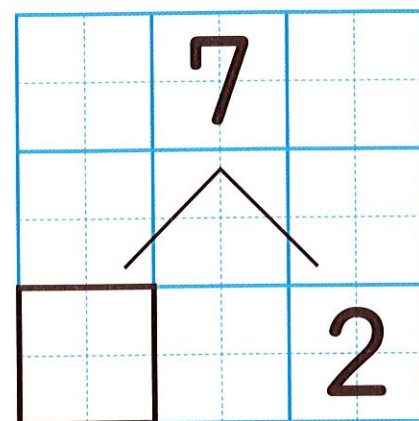
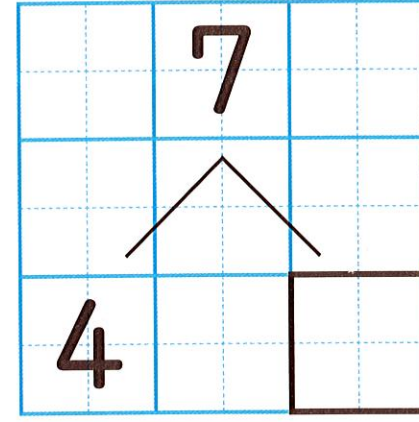

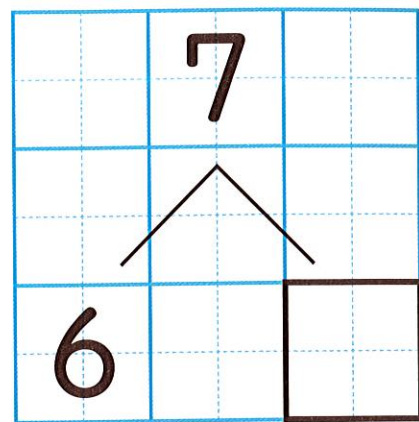
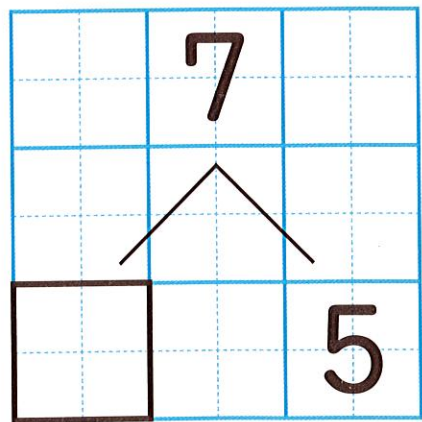
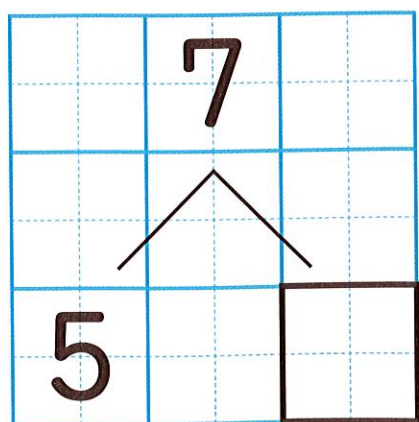
と

と

と





と

と



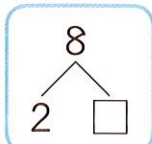

かぞえよう

2と5で...



8は いくつと いくつ

8



5と3で8。



2まいで8にしましょう。

5 と

2 と

7 と

4 と

1 と

6 と

3 と

8
5

8
 5

8
7

8
2

8
6

8
1


8
 4


8
 3


3 5

かぞえよう





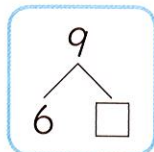









9



あといくつで
9になるかな。



9はいくつといくつですか。

5 と

6 と

2 と

1 と

7 と

3 と

4 と

8 と

9

5

9

5

9

6

9

8

9

1

9

3

9


7

9


4


7 2


かぞえよう














10



10

は



4 と 6



と



と



と



と



と



と



と



と

10		
/ \		
4		6

10		
/ \		
5		

10		
/ \		
3		

10		
/ \		
7		

10		
/ \		
6		

10		
/ \		
		2

10		
/ \		
		8

10		
/ \		
		9

10		
/ \		
		4


じぶんで かずを きめて みよう。

10		
/ \		

10		
/ \		

10		
/ \		

あといくつで10になりますか。






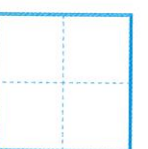


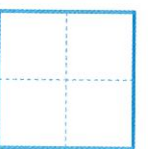

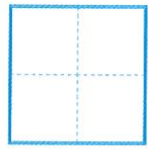


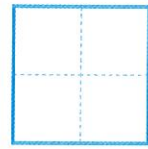



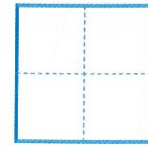
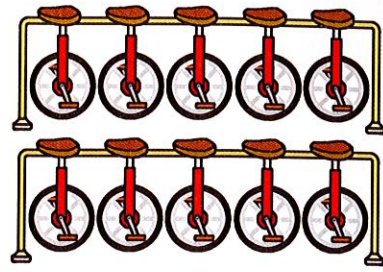
(れんしゅうする)





2つのかずで10をつくります。
たて、よこ、ななめでみつけて、
せんでかこみましょう。

5	1	2	4	6
5	4	8	5	9
3	9	7	3	1
1	4	8	6	5
3	7	2	5	6

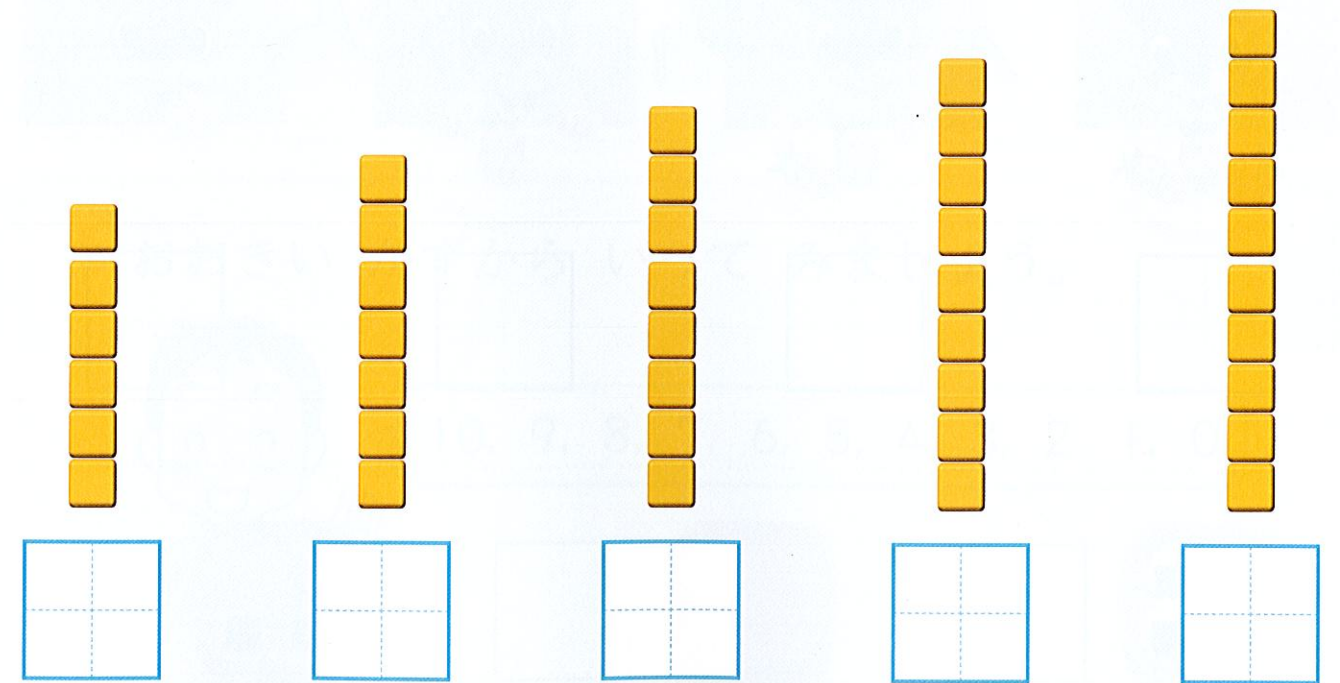
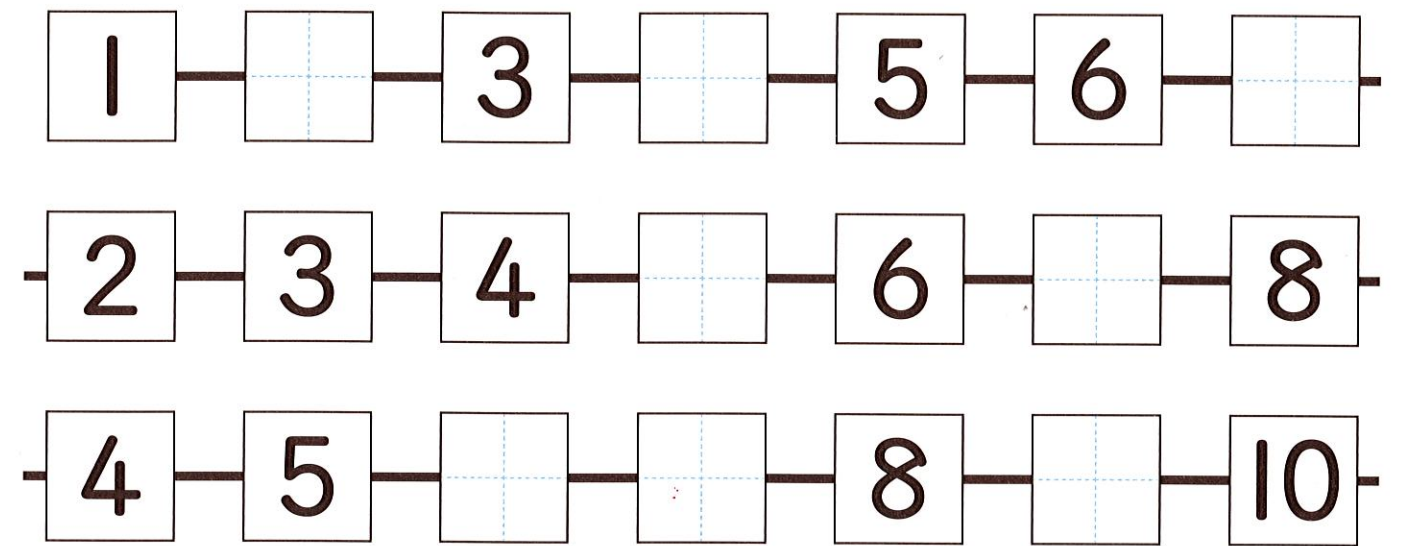
6	1	2	8	9
3	4	3	6	3
5	2	7	1	2
5	4	2	9	3
1	8	3	5	7


いくつ かこめたかな。





1 2 3 4 5 6 7 8 9 10





3

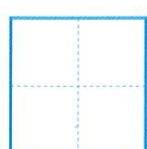


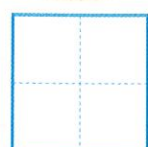

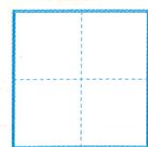
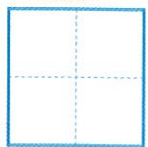
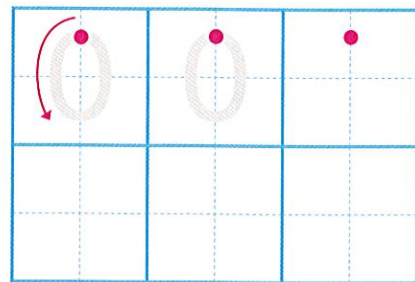


2



0

れい



こえに だして いおう

10までの かずを いいましょう。



▶ 2つずつ じゅんばんに いって みましょう。

3, 4

5, 6

7, 8


9, 10



▶ とちゅうから 3つ いって みましょう。

3

4, 5, 6




▶ おおきい かずから いって みましょう。


10, 9, 8, 7, 6, 5, 4, 3, 2, 1, 0



なんばんめかな



まえ



うしろ



すわりましょう。

まえから 3 にん



まえから 3 にんめ



せんで かこもう

まえから 4 だい



まえから 4 だいいめ




うしろから 5 だいいめ



ばしょは どこかな

うえ



した

は、どこに いますか。

は、うえから

 ばんめです。



しほ

は、したから

 ばんめです。



りく

は、どこに ありますか。

ひだり



みぎ

は、 から

 ばんめです。



あみ

は、どこに いますか。



ひだり

みぎ

まえ

うしろ

みぎから
3ばんめです。



こうた

ひだりから
かぞえると…。



あみ

まえからは…。



みさき

いろいろな
いいかたが…。



はると

たまごが 6 こ あります。



○ ○ ○ ○ ○ ○

□

○ ○ ○ ○ ○ ○ → ○ ○ ○ ○ ○ ○

1 5 2 □

○ ○ ○ ○ ○ ○ ← ○ ○ ○ ○ ○ ○ ← ○ ○ ○ ○ ○ ○

□ □ □ □ □ □

○ ○ ○ ○ ○ ○

□

6 は ● ○ ○ ○ ○ ○

● ● ○ ○ ○ ○

● ● ● ○ ○ ○

● ● ● ● ○ ○

● ● ● ● ● ○

1 と 5

2 と □


□ と □

□ と □

□ と □

●の かずが 1 ふえると…。

たまごが 10 こ あります。



○ ○ ○ ○ ○ ○ ○ ○ ○ ○ ○ ○

□

○ ○ ○ ○ ○ ○ ○ ○ ○ ○ ○ ○

□ □

つづきを かんがえて みよう。

10 は ● ○ ○ ○ ○ ○ ○ ○ ○ ○ ○

● ● ○ ○ ○ ○ ○ ○ ○ ○ ○ ○

● ● ● ○ ○ ○ ○ ○ ○ ○ ○ ○ ○

● ● ● ● ○ ○ ○ ○ ○ ○ ○ ○ ○ ○

○ ○ ○ ○ ○ ○ ○ ○ ○ ○ ○ ○ ○ ○ ○ ○

○ ○ ○ ○ ○ ○ ○ ○ ○ ○ ○ ○ ○ ○ ○ ○

○ ○ ○ ○ ○ ○ ○ ○ ○ ○ ○ ○ ○ ○ ○ ○

○ ○ ○ ○ ○ ○ ○ ○ ○ ○ ○ ○ ○ ○ ○ ○

○ ○ ○ ○ ○ ○ ○ ○ ○ ○ ○ ○ ○ ○ ○ ○

□ と □

□ と □

□ と □

□ と □

□ と □

□ と □

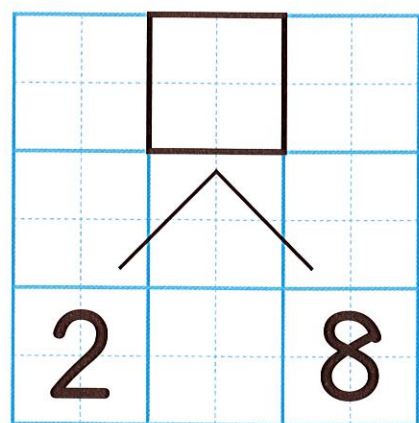
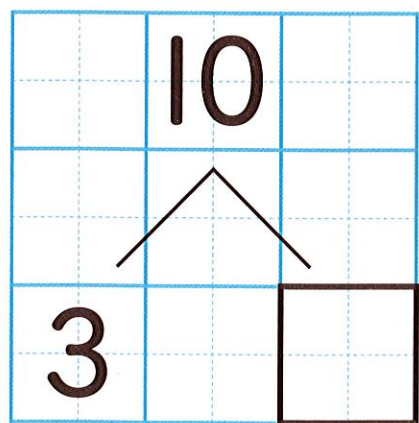
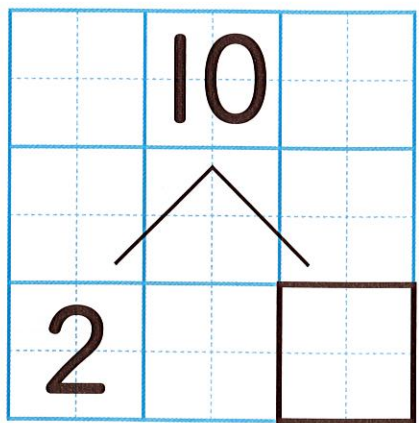

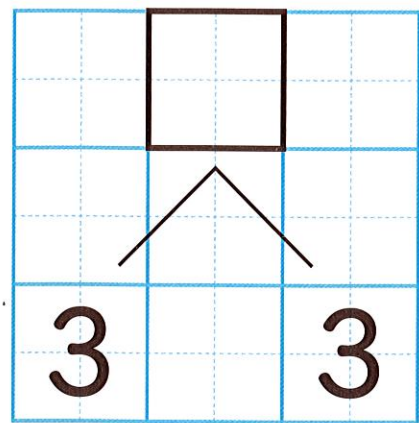
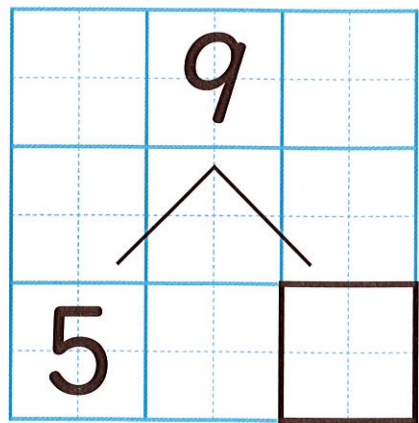
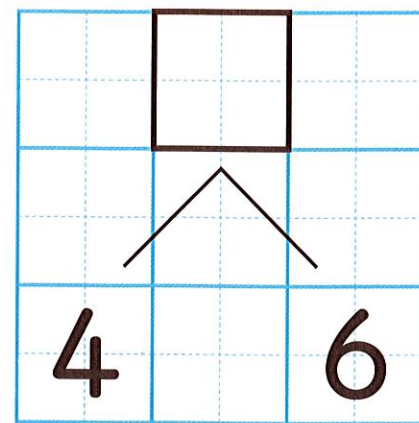
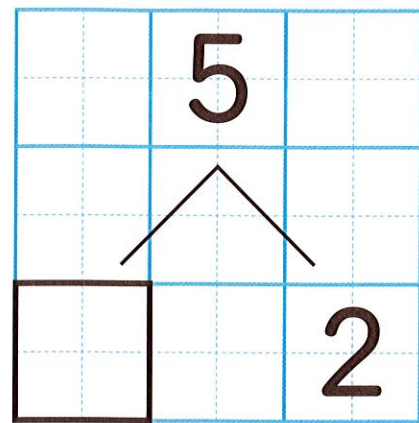
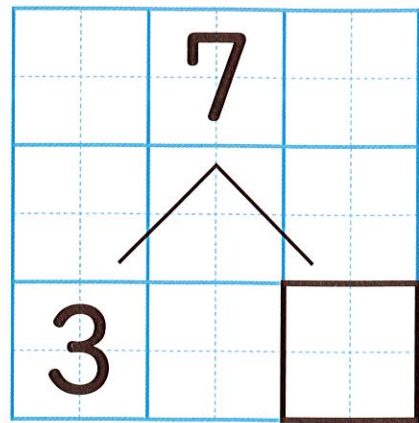
□ と □

□ と □

□ と □

●の かずが 1 ふえると…。





9 は 2 と

8 は 2 と


10 は 6 と

10 は 7 と

ぱっとみて、かずがわかるかな。





2と2で...



















かずを さがそう



著作関係者

(代表)

藤井齊亮 東京学芸大学名誉教授

真島秀行 お茶の水女子大学名誉教授

- 赤川峰大 神戸大学附属小学校教諭
- 浅田真一 国立学園小学校教諭
- 雨宮秀樹 山梨大学教育学部附属小学校副校長
- 池田敏彦 長崎県長崎市立桜町小学校校長
- 石原 直 東北福祉大学教授
- 市川伸一 東京大学客員教授
- 市川 啓 富城教育大学准教授
- 太田伸也 東京学芸大学教授
- 大谷 実 金沢大学教授
- 岡崎隆信 北海道札幌市立伏見小学校教諭
- 尾形祐樹 東京都日野市立日野第五小学校教諭
- 岡部寛之 早稲田実業学校初等部教諭
- 春日 学 東京都台東区立台東英小学校教諭
- 勝木奈美恵 福井県福井市社南小学校教諭
- 勝進亮次 東京都品川区立御殿山小学校校長
- 加藤 明 関西福祉大学学長
- 木月康二 東京都新宿区立四谷小学校教諭
- 久下谷明 お茶の水女子大学附属小学校教諭
- 倉次麻衣 東京学芸大学附属竹早小学校教諭
- 栗田辰一郎 東京学芸大学附属世田谷小学校教諭
- 小泉 友 東京都立川市立幸小学校教諭
- 児玉宏之 国立学園小学校校長
- 米田重和 佐賀大学准教授
- 近藤修史 高知大学教育学部附属小学校教諭
- 齊藤一弥 島根県立大学教授
- 佐々祐之 北海道教育大学教授
- 佐藤 拓 山梨県富士河口湖町立船津小学校教諭
- 清水宏幸 山梨大学准教授
- 清水美恵 筑波大学教授
- 白井一之 東京都荒川区立第三峡田小学校校長
- 杉田博之 前成城学園初等学校副校長
- 清野辰彦 東京学芸大学准教授
- 添田佳伸 宮崎大学教授
- 高橋昭彦 DEPAUL 大学准教授
- 高橋丈夫 成城学園初等学校教諭
- 立花正男 岩手大学教授
- 田端輝彦 前富城教育大学教授
- 辻 宏子 明治学院大学教授
- 角田大輔 山梨県甲府市立国母小学校教諭
- 土居英一 高知県高知市立潮江南小学校校長
- 内藤信義 東京都品川区立御殿山小学校教諭
- 中野俊幸 高知大学教授
- 中野博之 弘前大学教授

- 中村光一 東京学芸大学教授
- 中村潤一郎 昭和学院小学校教諭
- 中村真也 東京学芸大学附属小金井小学校教諭
- 中村享史 前山梨大学教授
- 永山香織 東京学芸大学附属世田谷小学校教諭
- 西尾博行 武庫川女子大学特任教授
- 二宮裕之 埼玉大学教授
- 長谷 豊 東京都目黒区立八雲小学校校長
- 羽中田彩記子 日本女子大学特任教授
- 早川 健 山梨大学教授
- 日出間均 十文学園女子大学教授
- 日野圭子 宇都宮大学教授
- 藤田 究 高知市教育委員会学校教育課学力向上推進員
- 細萱裕子 東京都豊島区立高松小学校教諭
- 細川 力 東京都港区立高輪台小学校校長
- 堀越和子 前東京都江戸川区立松江小学校校長
- 堀辺千晴 成城学園初等学校教諭
- 前田一誠 環太平洋大学准教授
- 蒔苗直道 筑波大学准教授
- 益子典文 岐阜大学教授
- 増本敦子 東京都杉並区立杉並第七小学校教諭
- 松浦武人 広島大学教授
- 御園真史 島根大学准教授
- 宮脇真一 熊本大学大学院准教授
- 村元秀之 北海道札幌市立緑丘小学校校長
- 森本 明 福島大学教授
- 両角達男 横浜国立大学教授
- 山本信也 前熊本大学教授
- 山本朋弘 鹿児島大学准教授
- 横須賀咲子 東京都台東区立金曾木小学校教諭
- 横田 良 横須賀市教育委員会学校支援員
- 渡邊公夫 前早稲田大学教授
- 渡辺秀貴 創価大学准教授

■特別支援教育に関する指導・助言・校閲

- 青山新吾 ノートルダム清心女子大学准教授
- 荒川正敏 神奈川県横須賀市立船越小学校教諭
- 岡田克己 神奈川県横浜市立仏向小学校教諭
- 菊地一文 弘前大学教授
- 廣瀬由美子 明星大学教授

東京書籍株式会社
ほか2名

- 色彩デザインに関する編集協力：色覚問題研究グループばすてる
- 表紙：おさないまこと／(撮影)大畑俊男
- 表紙・本文デザイン：エイブルデザイン(和田裕・佐藤由梨)
- さし絵・図版・写真：大畑俊男／岡部タカノブ／おさないまこと／川野郁代／熊アート／田村公生／どいまき／福島有伸／フジイカクホ／皆川良一／渡部佳則